







# DAUGIAU, MAŽIAU ARBA LYGU

Suskaičiuok kiek picos gabalėlių liko kiekvieno lėkštėje ir pažymėk tinkamą ženklą (daugiau, mažiau ar lygu).

<, >, =




# DAUGIAU, MAŽIAU ARBA LYGU


Skaičių eilutėje nuspalvink tiek langelių, kiek paveikslėlių pavaizduota ir pažymėk tinkamą ženklą.

<, >, =

1 2 3 4 5 6 7 8 9 10



1 2 3 4 5 6 7 8 9 10




1 2 3 4 5 6 7 8 9 10




1 2 3 4 5 6 7 8 9 10



1 2 3 4 5 6 7 8 9 10



1 2 3 4 5 6 7 8 9 10




1 2 3 4 5 6 7 8 9 10



1 2 3 4 5 6 7 8 9 10



1 2 3 4 5 6 7 8 9 10



1 2 3 4 5 6 7 8 9 10

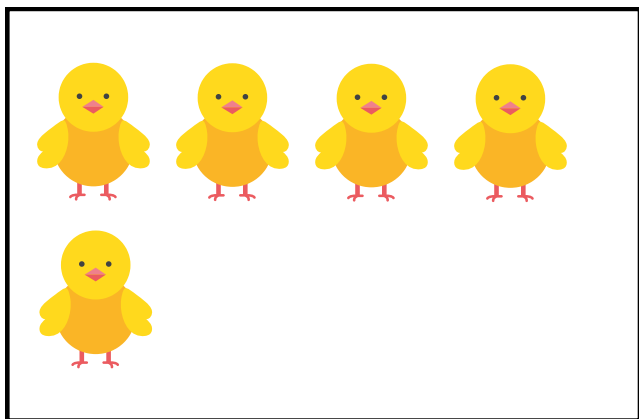


# DAUGIAU, MAŽIAU ARBA LYGU

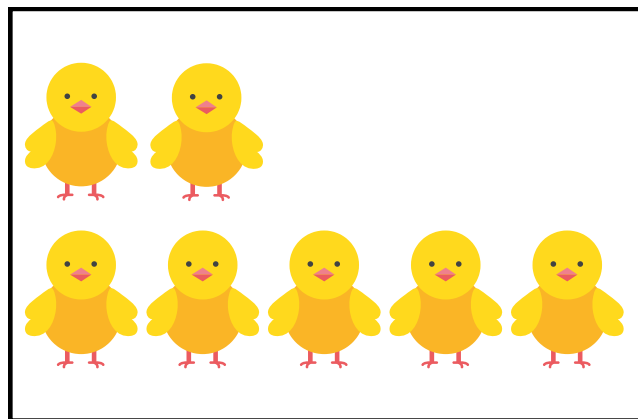
Skaičių eilutėje nuspalvink tiek langelių, kiek paveikslėlių pavaizduota ir pažymėk tinkamą ženklą.

<, >, =

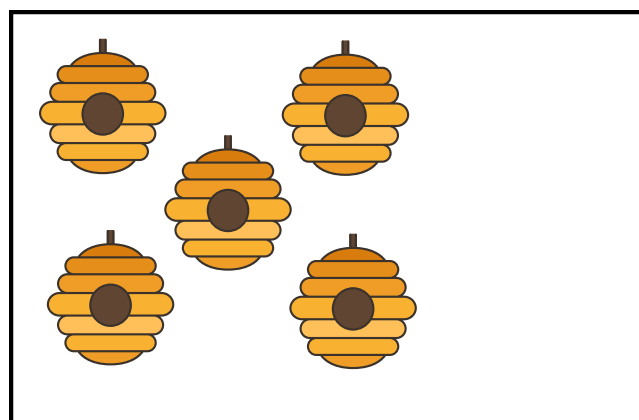
1 2 3 4 5 6 7 8 9 10



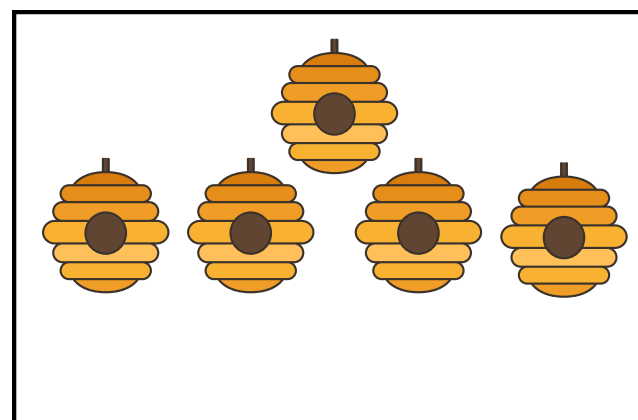
1 2 3 4 5 6 7 8 9 10





1 2 3 4 5 6 7 8 9 10




1 2 3 4 5 6 7 8 9 10



1 2 3 4 5 6 7 8 9 10





1 2 3 4 5 6 7 8 9 10




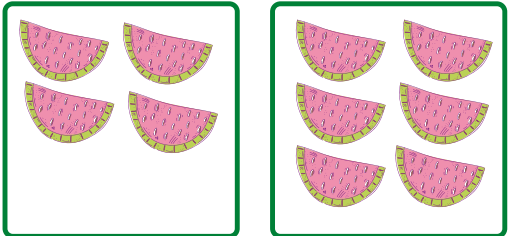
# DAUGIAU, MAŽIAU ARBA LYGU

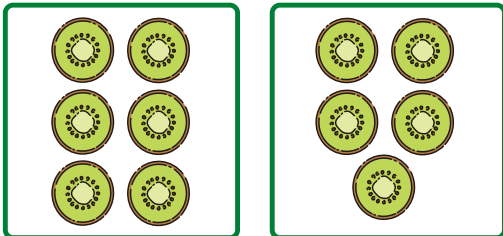
<, >, =

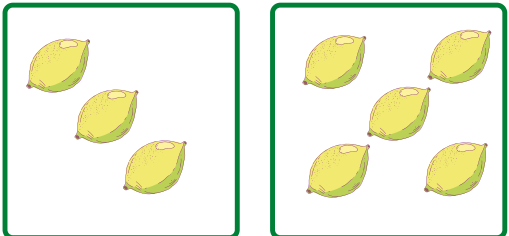
1. 


6. 


2. 


7. 


3. 

8. 

4. 

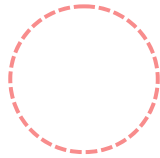

9. 

5. 

10. 

# MAŽIAU AR DAUGIAU

Pažymėk teisingą atsakymą ir  
įrašyk skaičius.

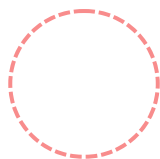




yra

daugiau

negu

mažiau

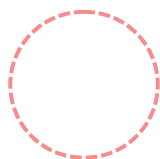




yra

daugiau

negu

mažiau

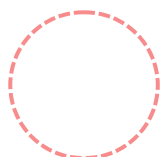



yra

daugiau

negu

mažiau

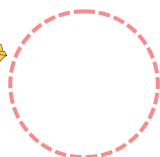

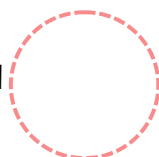


yra

daugiau

negu

mažiau

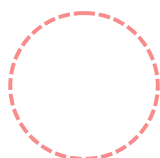




yra

daugiau

negu

mažiau




yra

daugiau

negu

mažiau



# MAŽIAU AR DAUGIAU

Pažymėk teisingą atsakymą ir  
įrašyk skaičius.

8 yra daugiau negu 14  
mažiau

17 yra daugiau negu 14  
mažiau

6 yra daugiau negu 6  
mažiau

14 yra daugiau negu 8  
mažiau

10 yra daugiau negu 14  
mažiau

9 yra daugiau negu 14  
mažiau

14 yra daugiau negu 17  
mažiau

17 yra daugiau negu 19  
mažiau

12 yra daugiau negu 19  
mažiau

20 yra daugiau negu 13  
mažiau

18 yra daugiau negu 12  
mažiau

16 yra daugiau negu 8  
mažiau

# DAUGIAU, MAŽIAU ARBA LYGU

Skaičių eilutėje nuspalvink tiek langelių, kiek paveikslėlių pavaizduota ir pažymėk tinkamą ženklą.

<, >, =

1	2	3	4	5	6	7	8	9	10
11	12	13	14	15	16	17	18	19	20

1	2	3	4	5	6	7	8	9	10
11	12	13	14	15	16	17	18	19	20

8

13

1	2	3	4	5	6	7	8	9	10
11	12	13	14	15	16	17	18	19	20

1	2	3	4	5	6	7	8	9	10
11	12	13	14	15	16	17	18	19	20

20

17

1	2	3	4	5	6	7	8	9	10
11	12	13	14	15	16	17	18	19	20

1	2	3	4	5	6	7	8	9	10
11	12	13	14	15	16	17	18	19	20

18

18

1	2	3	4	5	6	7	8	9	10
11	12	13	14	15	16	17	18	19	20

1	2	3	4	5	6	7	8	9	10
11	12	13	14	15	16	17	18	19	20

7

12

1	2	3	4	5	6	7	8	9	10
11	12	13	14	15	16	17	18	19	20

1	2	3	4	5	6	7	8	9	10
11	12	13	14	15	16	17	18	19	20

14

15

# DAUGIAU, MAŽIAU ARBA LYGU

Skaičių eilutėje nuspalvink tiek langelių, kiek paveikslėlių pavaizduota ir pažymėk tinkamą ženklą.

<, >, =

1	2	3	4	5	6	7	8	9	10
11	12	13	14	15	16	17	18	19	20

1	2	3	4	5	6	7	8	9	10
11	12	13	14	15	16	17	18	19	20

**3**  **2**

1	2	3	4	5	6	7	8	9	10
11	12	13	14	15	16	17	18	19	20

1	2	3	4	5	6	7	8	9	10
11	12	13	14	15	16	17	18	19	20

**19**  **20**

1	2	3	4	5	6	7	8	9	10
11	12	13	14	15	16	17	18	19	20

1	2	3	4	5	6	7	8	9	10
11	12	13	14	15	16	17	18	19	20

**7**  **4**

1	2	3	4	5	6	7	8	9	10
11	12	13	14	15	16	17	18	19	20

1	2	3	4	5	6	7	8	9	10
11	12	13	14	15	16	17	18	19	20

**16**  **5**

1	2	3	4	5	6	7	8	9	10
11	12	13	14	15	16	17	18	19	20

1	2	3	4	5	6	7	8	9	10
11	12	13	14	15	16	17	18	19	20

**3**  **3**



## Įrašyk trūkstamus skaičius

	1		4		6	7		9		
		12			15		17	18		20
	21			24		26			29	30
		32	33		35		37		39	
	41			44		46		48		50
	51			54		56	57		59	
		62			65		67	68		70
	71			74		76			79	80
	81		83	84		86		88		
		92	93		95		97		99	

↑  
Skaičiai mažėja

↓  
Skaičiai didėja

# DAUGIAU, MAŽIAU ARBA LYGU

<, >, =

25  24

82  64

28  37

25  24

99  90

46  49

73  86

55  65